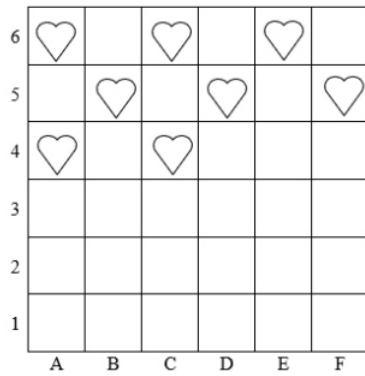


Carla disegna dei cuori nelle caselle, lasciando tra un cuore e l'altro sempre una sola casella vuota sia in orizzontale sia in verticale.

Carla non ha completato il suo disegno.

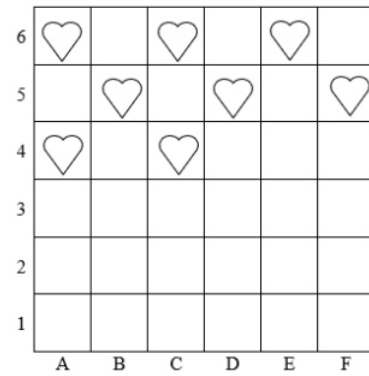


In quale delle seguenti caselle Carla non disegnerà un cuore?

- A. Nella casella (C, 2)
- B. Nella casella (D, 2)
- C. Nella casella (E, 2)

Carla disegna dei cuori nelle caselle, lasciando tra un cuore e l'altro sempre una sola casella vuota sia in orizzontale sia in verticale.

Carla non ha completato il suo disegno.

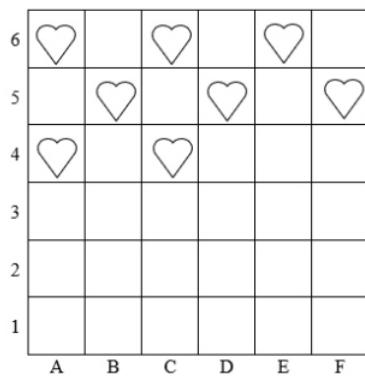


In quale delle seguenti caselle Carla non disegnerà un cuore?

- A. Nella casella (C, 2)
- B. Nella casella (D, 2)
- C. Nella casella (E, 2)

Carla disegna dei cuori nelle caselle, lasciando tra un cuore e l'altro sempre una sola casella vuota sia in orizzontale sia in verticale.

Carla non ha completato il suo disegno.

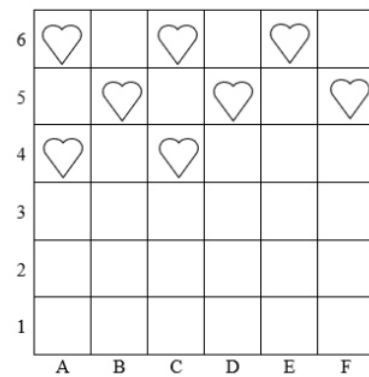


In quale delle seguenti caselle Carla non disegnerà un cuore?

- A. Nella casella (C, 2)
- B. Nella casella (D, 2)
- C. Nella casella (E, 2)

Carla disegna dei cuori nelle caselle, lasciando tra un cuore e l'altro sempre una sola casella vuota sia in orizzontale sia in verticale.

Carla non ha completato il suo disegno.



In quale delle seguenti caselle Carla non disegnerà un cuore?

- A. Nella casella (C, 2)
- B. Nella casella (D, 2)
- C. Nella casella (E, 2)