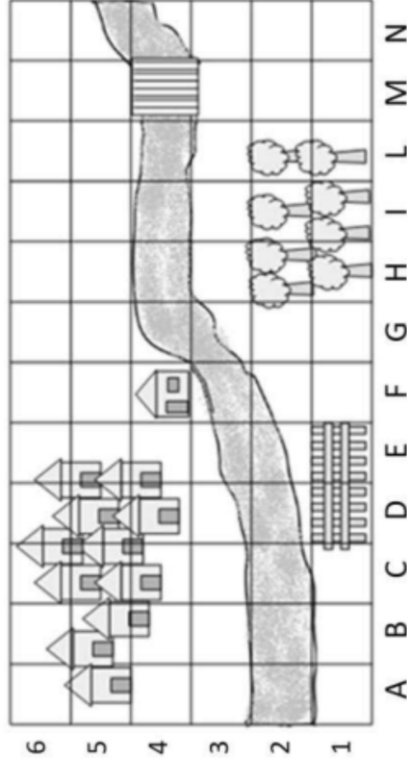


Questa è la mappa disegnata da Lisa.

LEGENDA

- CASA DI LISA
- BOSCO
- PONTE
- RECINTO
- TORRENTE
- PAESE



Completa la frase.

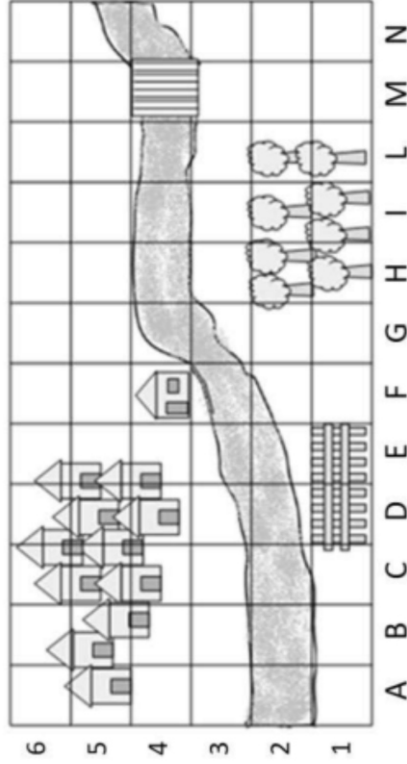
a. Lisa in (D; 1) e (E; 1) ha disegnato

b. In quale casella Lisa ha disegnato il ponte? Risposta: (.....;)

Questa è la mappa disegnata da Lisa.

LEGENDA

- CASA DI LISA
- BOSCO
- PONTE
- RECINTO
- TORRENTE
- PAESE



Completa la frase.

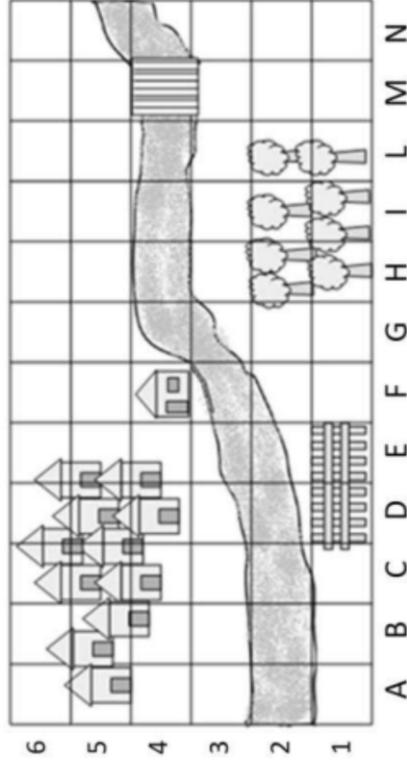
a. Lisa in (D; 1) e (E; 1) ha disegnato

b. In quale casella Lisa ha disegnato il ponte? Risposta: (.....;)

Questa è la mappa disegnata da Lisa.

LEGENDA

- CASA DI LISA
- BOSCO
- PONTE
- RECINTO
- TORRENTE
- PAESE



Completa la frase.

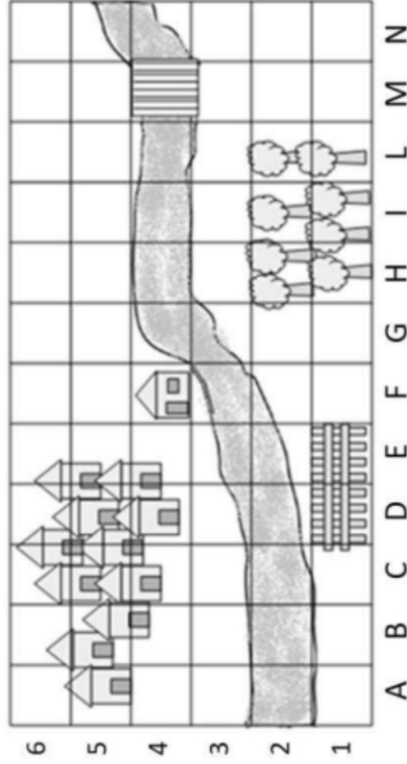
a. Lisa in (D; 1) e (E; 1) ha disegnato

b. In quale casella Lisa ha disegnato il ponte? Risposta: (.....;)

Questa è la mappa disegnata da Lisa.

LEGENDA

- CASA DI LISA
- BOSCO
- PONTE
- RECINTO
- TORRENTE
- PAESE



Completa la frase.

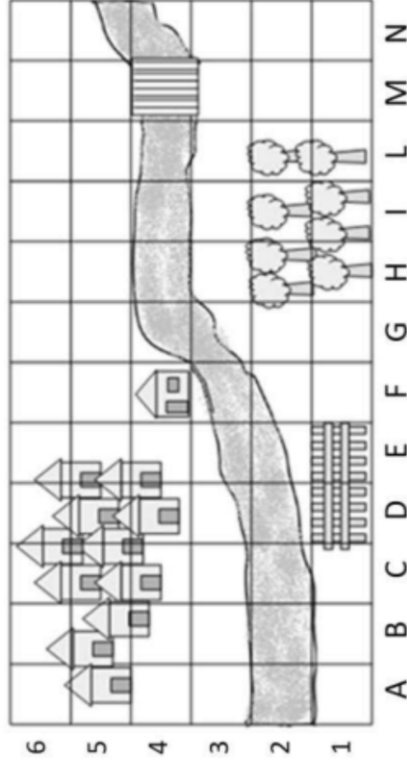
a. Lisa in (D; 1) e (E; 1) ha disegnato

b. In quale casella Lisa ha disegnato il ponte? Risposta: (.....;)

Questa è la mappa disegnata da Lisa.

LEGENDA

- CASA DI LISA
- BOSCO
- PONTE
- RECINTO
- TORRENTE
- PAESE



Completa la frase.

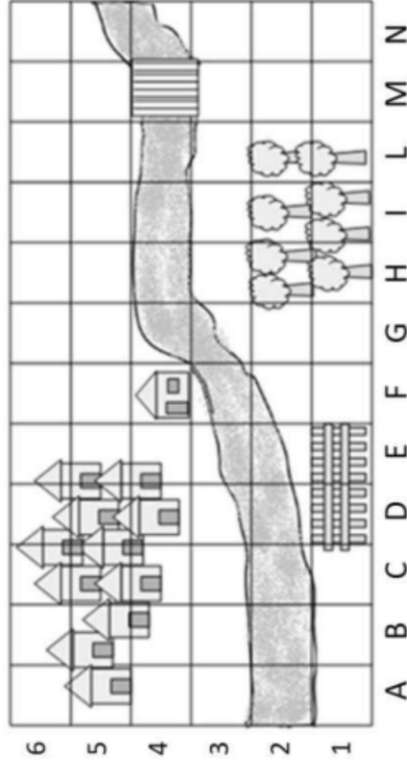
a. Lisa in (D; 1) e (E; 1) ha disegnato

b. In quale casella Lisa ha disegnato il ponte? Risposta: (.....;)

Questa è la mappa disegnata da Lisa.

LEGENDA

- CASA DI LISA
- BOSCO
- PONTE
- RECINTO
- TORRENTE
- PAESE



Completa la frase.

a. Lisa in (D; 1) e (E; 1) ha disegnato

b. In quale casella Lisa ha disegnato il ponte? Risposta: (.....;)